

# 障害者を対象とする佐賀県職員採用選考 例 題 目 次

## 第1次選考科目

教養試験（大学卒業程度）	1
教養試験（高等学校卒業程度）	4
論文試験	7
作文試験	8

## 教養試験（大学卒業程度）

〔例題1〕 日本におけるキャッシュレス決済に関する次の文中の下線部分ア～エのうちには妥当なものが二つある。それらはどれか。

キャッシュレス決済手段には、クレジットカード、交通系電子マネーなどの電子マネー、スマートフォン決済など、様々な手段がある。このうち、クレジットカードは、最近ではICチップを内蔵したものが多くなっている。店舗での取引においてICチップ内蔵のクレジットカードを利用する際には、ア暗証番号の入力と伝票へのサインの両方を必ず求められる。また、スマートフォン決済にはバーコードや二次元コードを活用するコード決済があり、コード決済では、イ店舗側が提示したコードを消費者が読み取るか、消費者が提示したコードを店舗側が読み取る。

2019年10月、消費税率引上げと同時に、政府による期間限定のキャッシュレス・ポイント還元事業（キャッシュレス・消費者還元事業）が始まった。この還元事業の対象となったキャッシュレス決済手段は、ウクレジットカード、電子マネー、スマートフォン決済などである。また、還元事業の対象となった店舗には、エ大手スーパーマーケット、百貨店は含まれたが、中小・小規模事業者の店舗は含まれなかった。

1. ア, ウ
2. ア, エ
3. イ, ウ
4. イ, エ
5. ウ, エ

正答 3

〔例題 2〕 太陽の南中に関する次の文中のア,イに入るものがいずれも妥当なのはどれか。

山口県の下関市は北緯 3 4 度,東経 1 3 1 度付近に位置しており,新潟県の新潟市は北緯 3 8 度,東経 1 3 9 度付近に位置している。

この 2 都市において,同じ日に太陽の動きを観察すると,下関市の方が新潟市に比べて,南中高度は  高く,南中時刻は  。

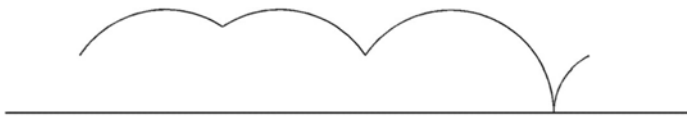
- | ア         | イ         |
|-----------|-----------|
| 1 . 約 4 度 | 約 1 6 分早い |
| 2 . 約 4 度 | 約 3 2 分遅い |
| 3 . 約 4 度 | 約 4 8 分遅い |
| 4 . 約 8 度 | 約 3 2 分早い |
| 5 . 約 8 度 | 約 4 8 分遅い |

正答 2

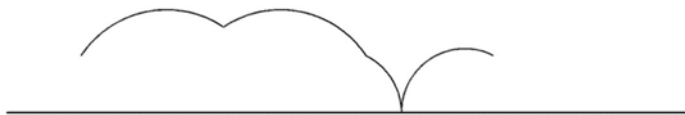
〔例題3〕 図のように，台形が直線上を滑ることなく矢印の方向に1回転したとき，台形の辺上の点Pが描く軌跡として妥当なのはどれか。



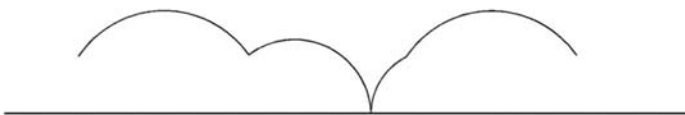
1 .



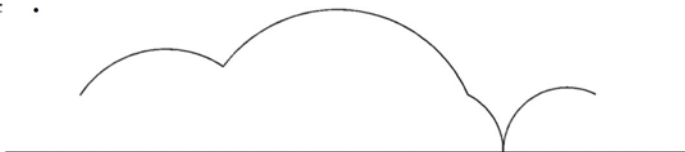
2 .



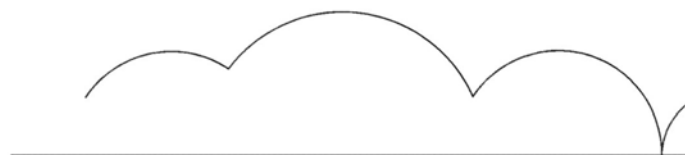
3 .



4 .



5 .



正答 2

## 教養試験（高等学校卒業程度）

〔例題 1〕 日本の高齢者をめぐる状況に関する次の記述ア～エのうちには妥当なものが二つある。それらはどれか。

- ア．65歳以上の高齢者の人口は増加を続けており、既に総人口の4分の1を超えている。
- イ．在宅医療などを充実させる政府の施策が進められており、高齢者医療費が国民医療費全体に占める割合は20%程度に抑えられている。
- ウ．国民年金又は厚生年金に加入し、一定期間以上保険料を納めた者は老齢年金を受給できる。老齢年金の受給額は、保険料の納付期間や金額によらず一律である。
- エ．介護保険制度の保険料を納めた者は、介護が必要と認定された場合、費用の一部を支払い、介護サービスを利用することができる。要介護認定者数は増加を続けている。

- 1．ア，イ
- 2．ア，エ
- 3．イ，ウ
- 4．イ，エ
- 5．ウ，エ

正答 2

〔例題 2〕 インドに関する次の記述のうち妥当なのはどれか。

- 1 . 人口は近年急速に増加しており , 2 0 1 9 年現在 , 世界第 1 位となっている。
- 2 . ヒンドゥー教徒が国民の 7 割以上を占めており , ヒンドゥー教徒の社会にはカースト制と呼ばれる制度がある。
- 3 . 米や小麦の栽培が盛んであるが , 米は国内の需要が多いため自給できず , 輸入量は世界第 1 位である。
- 4 . 地下資源が豊富で , 特に石炭は世界第 1 位の産出量を誇り , 日本など世界各地に輸出している。
- 5 . 工業は綿工業などの軽工業が中心であり , 自動車工業や情報通信技術 ( ICT ) 産業はほとんど発展していない。

正答 2

〔例題3〕 A～Gの7人が丸テーブルを囲む七つの席に座る。まずBとGが席を一つ挟んで座り、次にDとFが席を二つ挟んで座った。さらにAとEが席を三つ挟んで座ったが、この三つの席にFは座っておらず、AはGと隣り合わせではなかった。最後にCがEと隣り合わせに座った。このとき、確実に言えるのはどれか。

- 1．AとBは席を二つ挟んで座っている。
- 2．AとDは席を一つ挟んで座っている。
- 3．BとEは席を一つ挟んで座っている。
- 4．BとFは隣り合わせに座っている。
- 5．CとDは隣り合わせに座っている。

正答 2

## 論文試験

(令和2年度第1回選考)

「佐賀県職員として、取り組みたい行政課題について、課題を選択した理由及び課題に対応するための施策を論じなさい。」

(令和2年度第2回選考)

「高齢者や障害者、子どもなど、誰もが自分らしく安心して暮らせるまちづくりのため、佐賀県が重点的に取り組むべき施策について、あなたの考えを述べなさい。」



## 作文試験

(令和2年度第1回選考)

「これまでの生活の中で達成感を得た経験について述べなさい。」

(令和2年度第2回選考)

「自分自身の成長のため、今、努力していることについて述べなさい。」